

Московская олимпиада школьников. История. 6 класс. Отборочный этап, 2021/22

15 дек 2021 г., 09:00 – 16 янв 2022 г., 23:59

№ 1

1 балл

На протяжении практически всей своей истории человек стремился к сохранению и передаче своих знаний. Древние египтяне использовали для письма папирус, китайцы – бумагу. Однако эти материалы недолговечны и довольно плохо сохраняются при попадании в землю. На Руси использовался ещё один материал, на первый взгляд очень непрочный, но на удивление хорошо сохранившийся на некоторых территориях. В середине прошлого века учёными были найдены записи на этом материале. Напишите название материала, на котором писали наши далёкие предки.

береста

№ 2

1 балл

Падение древней столицы и распад этой империи ознаменовало начало эпохи Средневековья. Однако восточная часть империи ещё практически тысячу лет оставалась единым и независимым государством. Жители самостоятельной восточной части, как ни странно, продолжали называть себя термином, которым обозначали жителей павшей древней столицы. У них на то были основания, так как столица новообразованного государства была последней столицей единой империи. Выберите имя императора, с которым связано строительство новой столицы.

Константин

Цезарь

Юстиниан

Ромул

Октавиан

Август

Троян

№ 3

1 балл

Бич Божий – так в средневековых сочинениях называли вождя «народа всадников». Объединив вокруг себя множество разрозненных племен, он сумел создать огромное государство, простиравшееся от Волги до Рейна, представлявшее серьёзную угрозу для всё слабеющего Рима. Вспомнив имя этого полководца, выберите из приведённого списка племя, предводителем которого он являлся.

Гунны

Саксы

Англы

Готы

Бритты

Кельты

Авары

Булгары

Фризы

3 балла

Рассмотрите карту.



Выберите верные суждения.

- На схеме обозначена битва, в результате которой установилось нормандское господство в Англии.
- Пунктирной линией на схеме обозначен Вал Адриана.
- На карте обозначен город, в котором возник конфликт из-за драгоценной чаши между первым королём франков и его рыцарем.
- На представленной схеме обозначен город, в котором находилась столица империи Карла Великого.
- Согласно представленной схеме, славянские племена осуществляли походы на территорию государства, границы которого обозначены фиолетовой линией.
- На схеме обозначен город, основанный кельтами в III в. до н. э., ранее известный как Лютеция.

5 баллов

Выберите из приведённых иллюстраций те, на которых изображены памятники архитектуры, расположенные в обозначенных на схеме городах.



№ 6 – 7

3 балла

Перед вами фрагмент художественного произведения советского писателя, посвящённого истории Древнего мира.

«Вавилон встретил огромным количеством народа, криками базаров, говором на невообразимых языках, смесью диковинных одежд. Послы из разных стран ожидали, а от него по-прежнему не приходило вестей. Более того, распространились слухи о его гибели в водах Инда, потом будто бы на горных высотах. Наместник его в Вавилоне приказал немедля хватать рассказчиков и вести их к нему на допрос, чтобы под угрозой бичевания выяснить источник сведений. Неизменно от распространителей слухов нити вели к иноземным торговцам или политикам, рассчитывавшим вызвать смятение и, так или иначе, поживиться. Слухи прекратились, но известия по-прежнему отсутствовали...»

Определите, о каком правителе идёт речь. Выберите изображения, связанные с историей его походов.









3 балла





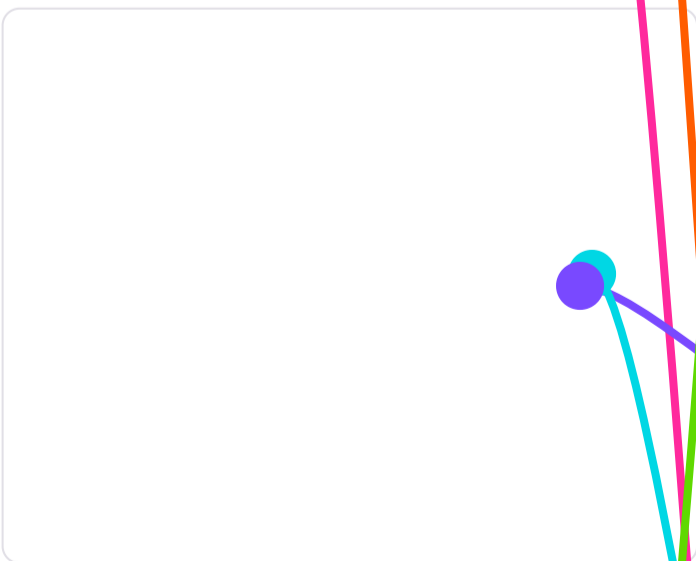
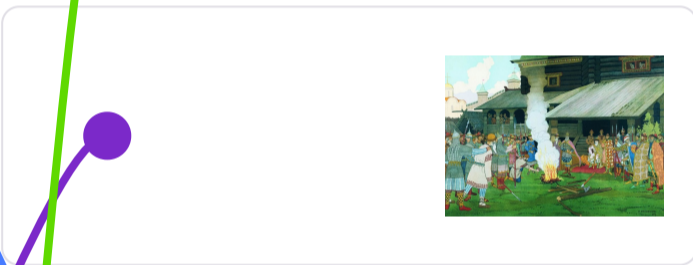



Выберите крылатые выражения, которые связаны с именем этого правителя.

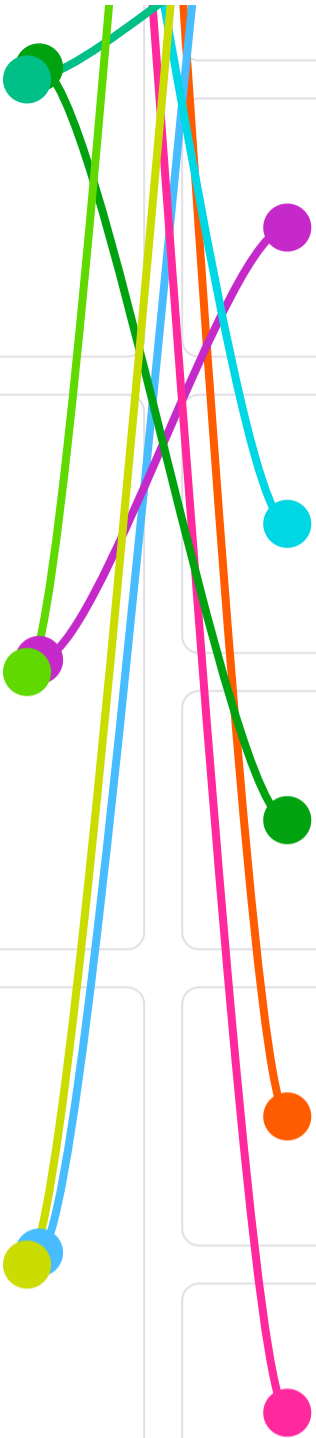
- «Карфаген должен быть разрушен!»
- «Разрубить гордиев узел»
- «Хочешь мира – готовься к войне»
- «И всё-таки она вертится!»
- «Я бы согласился принять мир, будь я Парменионом»
- «Я предпочёл бы быть первым здесь, чем вторым в Риме»
- «Не может на небе быть двух солнц, как не может в Азии быть двух царей»

12 баллов

Соотнесите гербы современных стран с иллюстрациями, на которых представлены сюжеты из истории располагавшихся на их территории древних государств.

1		2	
3		4	
5		6	
7		8	





5 баллов

«Пошёл Олег на греков, оставив Игоря в Киеве; взял же с собою множество варягов, и славян, и чуди, и кривичей, и мерю, и полян, и северян, и древлян, и радимичей, и хорватов, и дулебов, и тиверцев, известных как толмачи: этих всех называли "Великая скифь". И с этими всеми пошёл Олег на конях и в кораблях; и было кораблей числом две тысячи. И пришёл к Царьграду; греки же замкнули Суд, а город затворили... И повелел Олег своим воинам сделать колёса и поставить на колёса корабли. И когда поднялся попутный ветер, подняли они в поле паруса и двинулись к городу. Греки же, увидев это, испугались и сказали, послав к Олегу: "Не губи города, согласимся на дань, какую захочешь". И остановил Олег воинов, и вынесли ему пищу и вино, но не принял его, так как было оно отравлено. И испугались греки и сказали: "Это не Олег, но святой Дмитрий, посланный на нас Богом". И потребовал Олег выплатить дань на две тысячи кораблей: по двенадцать гривен на человека, а было в каждом корабле по сорок мужей... Цесари же Леон и Александр заключили мир с Олегом, обязались уплачивать дань и присягали друг другу: сами целовали крест, а Олега с мужами его водили присягать по закону русскому, и клялись те своим оружием и Перуном, своим богом, и Волосом, богом скота, и утвердили мир. И сказал Олег: "Сшейте для руси паруса из паволок, а славянам шёлковые", и было так. И повесили щиты свои на воротах в знак победы, и пошёл от Царьграда. И подняла русь паруса из паволок, а славяне шёлковые, и разодрал их ветер. И сказали славяне: "Возьмём свои толстины, не даны, знать, славянам паруса шёлковые". И вернулся Олег в Киев, неся золото и паволоки, и плоды, и вино, и всякое узорочье. И прозвали Олега Вещим, так как были люди язычниками и непросвещёнными».

Выберите верные суждения.

- В тексте упоминается город, который был основан легендарными князьями Кием, Щеком, Хоривом.
- В тексте упоминаются три древнерусских князя.
- События, описанные в тексте, происходили во время похода Олега на столицу Византийской империи.
- После завершения войны, события которой описаны в тексте, мир был заключён исключительно по православному обряду.
- Мирный договор был заключён после захвата города войсками Олега.
- В ходе войны князь получил новое прозвище, так как смог предсказать победу в битве.
- В тексте упоминаются названия славянских племенных союзов.
- В тексте понятия «русь» и «славяне» неравнозначны.
- Один из правителей, упомянутых в тексте, носил прозвище «Болгаробойца».

Согласно тексту, общая численность войск Олега была не больше двух тысяч человек.

Причиной поражения Царьграда в войне послужило предательство одного из жителей города по имени Анастас.

В тексте упоминается сын первого древнерусского князя.

1 балл

Выберите карту, где отражены события, о которых идёт речь в тексте.



1 балл

Выберите изображение, сюжетно связанное с событиями, которым посвящён текст.



6 баллов

Выберите из приведённого списка события, произошедшие в том же веке, что те, о которых говорится в тексте.

Основание Священной Римской империи

Хождение в Каноссу

Первое упоминание в летописи о Москве

Осада Киева печенегами

Открытие Гренландии Эриком Рыжим

Образование Древнерусского государства

Начало Первого крестового похода

Начало правления Василия II Болгаробойцы

Завершение Реконкисты

Убийство князя Игоря древлянами

Поход князя Игоря Святославича против половцев

Крещение Польши

№ 13

4 балла

Выберите утверждения, в которых устаревшие слова и выражения использованы в верном значении.

- Василиса Премудрая пошла в лес в дозор, чтобы набрать целебных трав.
- Богатырь Илья Муромец, вооружившись кокуркой, вышел на бой с печенегами.
- Добрыня Никитич достал огниво и зажёл на крепостной стене сигнальный костёр.
- Поп расплатился с работником Балдой двадцатью перстами.
- Алёша Попович бился об заклад, что он победит Змея Горыныча.
- Баба-яга встретила Ивана-царевича, подпоясавшись криницей.
- С утра до вечера Иван-дурак лытался на печи.
- Вечерами Кощей Бессмертный прятался в самой дальней горнице и жадно пересчитывал свои сокровища.

5 баллов

Рассмотрите плакаты. Выберите те, которые относятся к периоду Великой Отечественной войны.





